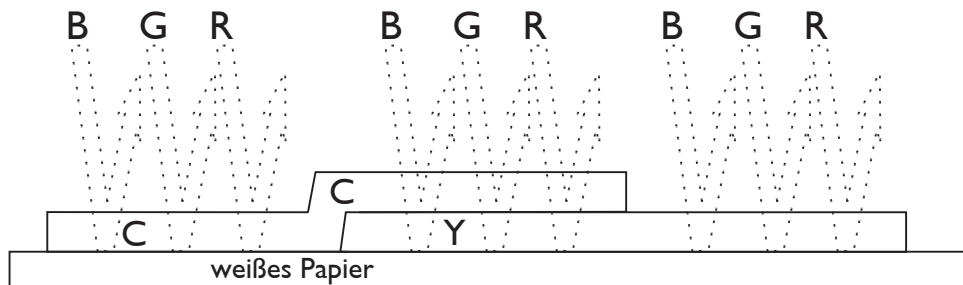
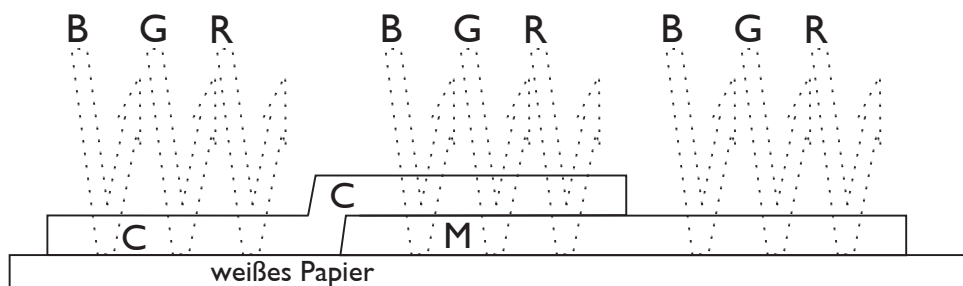


Ermitteln Sie für die folgenden Fälle die remittierten Lichtfarbenanteile und übertragen Sie diese in die jeweilige Zeichnung !
Welcher Farbeindruck entsteht?



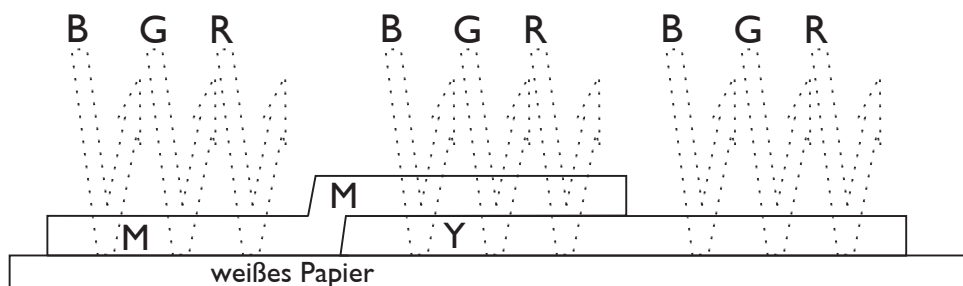
Die remittierten Lichtfarben sind:

Es entsteht ein Farbeindruck:



Die remittierten Lichtfarben sind:

Es entsteht ein Farbeindruck:



Die remittierten Lichtfarben sind:

Es entsteht ein Farbeindruck: