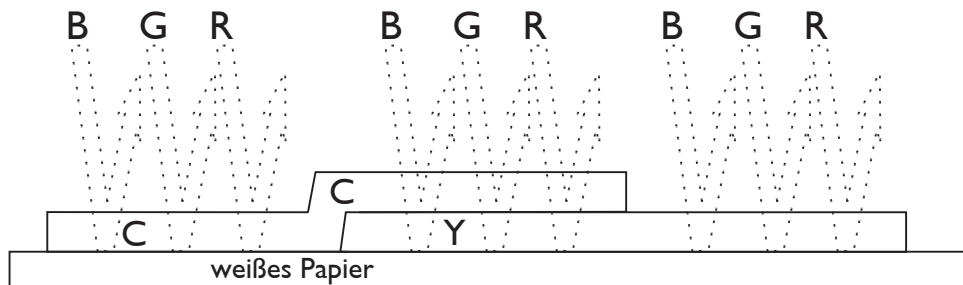
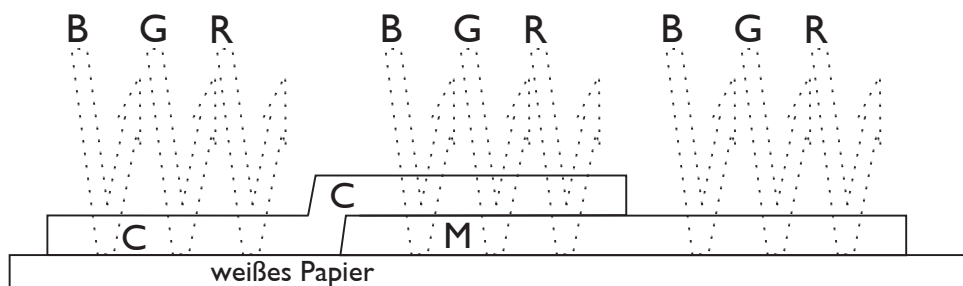


Ermitteln Sie für die folgenden Fälle die remittierten Lichtfarbenanteile und übertragen Sie diese in die jeweilige Zeichnung !  
Welcher Farbeindruck entsteht?



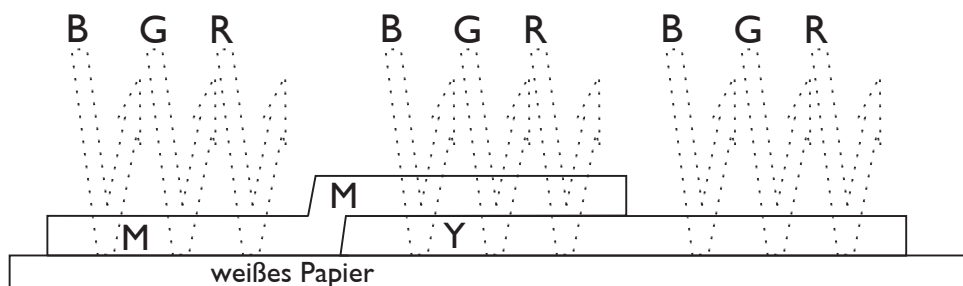
Die remittierten Lichtfarben sind: .....

Es entsteht ein ..... Farbeindruck:



Die remittierten Lichtfarben sind: .....

Es entsteht ein ..... Farbeindruck:



Die remittierten Lichtfarben sind: .....

Es entsteht ein ..... Farbeindruck: